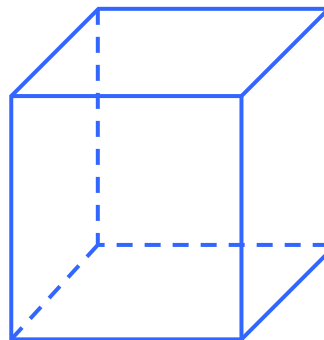
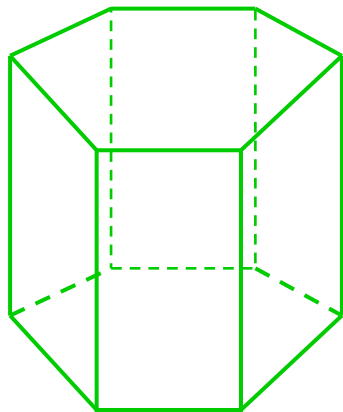
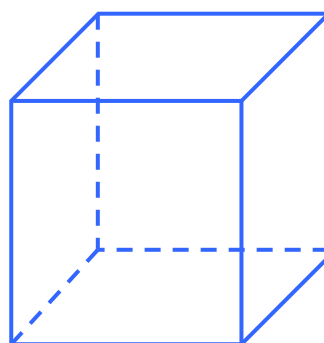
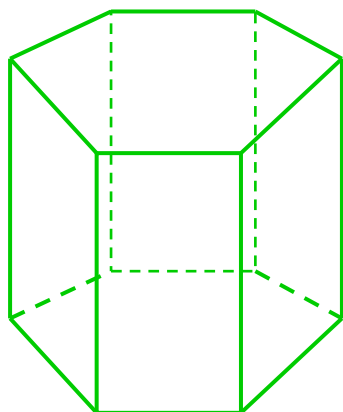


Część III - Trójkąty

1. Zaznacz trójkąt, jaki tworzy dwie krawędzie i przekątna ściany.



2. Zaznacz trójkąt, którego jednym bokiem jest przekątna graniastosłupa, drugim przekątna podstawy, a trzecim bokiem trójkąta jest krawędź boczna.



3. Zaznacz trójkąt, którego każdy bok jest przekątną ściany.

